

Επανάληψη

1. Γράφω τους αριθμούς από το 100 μέχρι το 1000, μετρώντας 100 - 100.

100,, 300,,, 600,,, 900,

2. Με τους αριθμούς **4, 2, 8**, φτιάχνω τριψήφιους αριθμούς

_____, _____, _____,
_____, _____, _____.

3. Να συμπληρώσεις τα επόμενα κενά.

α. Το **452** αποτελείται από:

- Εκατοντάδες, Δεκάδες και Μονάδες

β. Το **287** αποτελείται από:

- Εκατοντάδες, Δεκάδες και Μονάδες

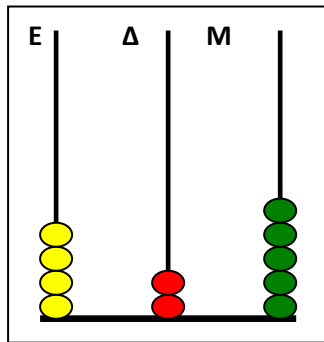
γ. Το **205** αποτελείται από:

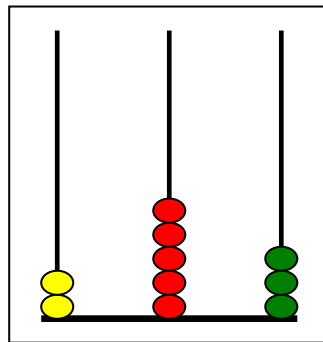
- Εκατοντάδες, Δεκάδες και Μονάδες

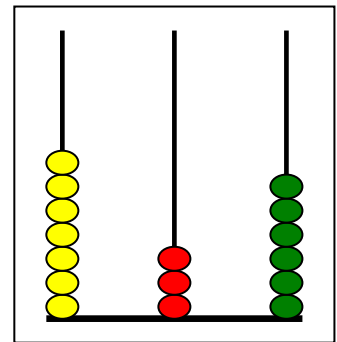
4. Γράψε τους αριθμούς με τη σειρά, από τον πιο μικρό μέχρι τον πιο μεγάλο

9345 9126 4769 23943 6279 14588 3459

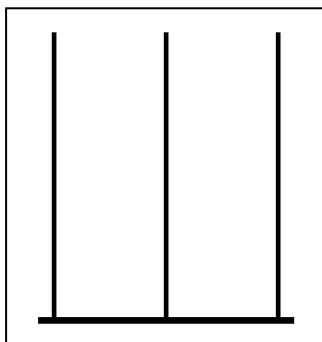
5. Γράφω με ψηφία τους αριθμούς που δείχνουν οι άβακες.

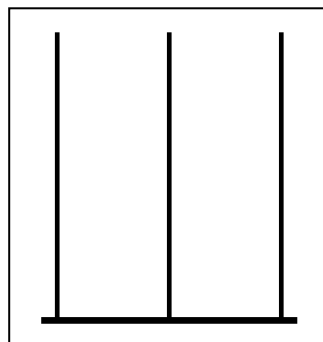


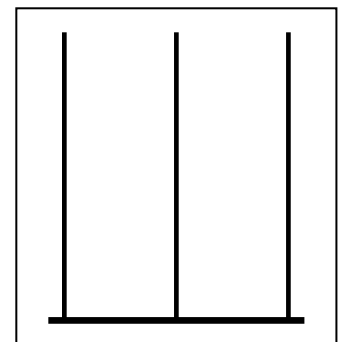




6. Σχηματίζω τους παρακάτω αριθμούς στους άβακες.







7. Να συμπληρώσεις

101	102	103	104		106				110
	112	113					118		
121			124	125				129	
				135					
	142			145				149	